

Nombre del equipo:


Localidad:

Centro

1

Sumar, restar, multiplicar, dividir

Coloca los signos necesarios para hacer cierta la igualdad siguiente:



$$8 \quad 8 \quad 8 \quad 8 \quad 8 = 120$$



Nombre del equipo:

Localidad:

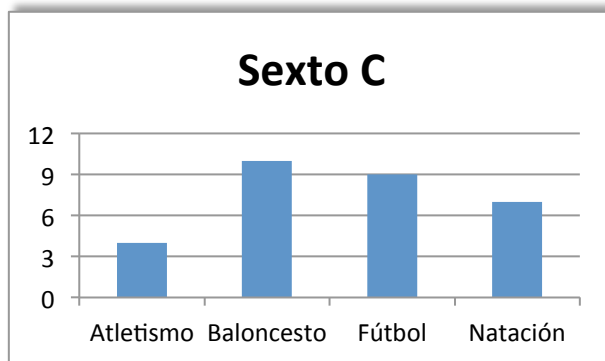
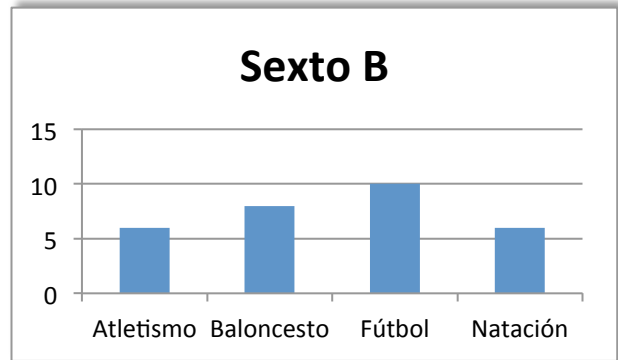
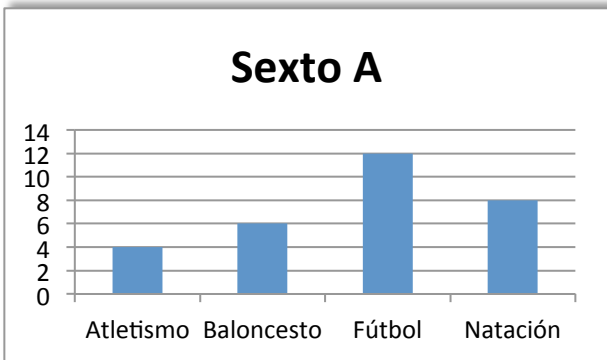
Centro

2

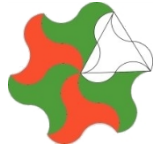


Buscando el deporte favorito

En los tres grupos de sexto de Primaria del colegio Matelandia, se ha realizado una encuesta por su profesora de Educación Física Nativel Corredora sobre las preferencias del alumnado a la hora de hacer deporte. Los resultados son los siguientes:



Escribe por orden los deportes, desde el más preferido por el alumnado de 6º de primaria hasta el menos preferido, e indica cómo has llegado a establecer este orden.



Nombre del equipo:

Localidad:

Centro

Adivinanza matemática:

Sabemos que el número de personas que fueron al viaje de fin de curso coincide con la suma de las edades de Pedro, Kevin y María. Entre ellos hablan y nos alguna pista en forma de “adivinanzas matemáticas”:

3

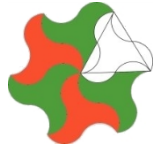
-- Pedro: “Yo, dentro de 9 años tendré 30”

-- Kevin: “Yo, hace 8 años tenía 7”.

-- María: “Yo, dentro de 14 años tendré el doble de los años que tengo ahora”.

¿Cuántas personas fueron al viaje?





XIX OLIMPIADAS MATEMÁTICAS THALES
DE PRIMARIA DE GRANADA 2015

Nombre del equipo:

Localidad:

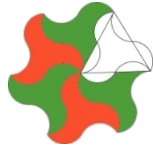
Centro

Monedas y más monedas

En mi bolsillo tengo 20 monedas, todas son de 0'50 € o de 0'20 €. En total tengo 8'20 euros
¿Cuántas monedas tengo de cada clase?

4





Nombre del equipo:

Localidad:

Centro

La alberca de la vida.

La vida de Antonce (Ant11 para los amigos) cambió el día que supo que con el agua de su alberca tendría para beber durante toda su vida.

¿Era cierto?

Datos:

Ant11 bebía un litro de agua al día y las dimensiones de su alberca eran de 4 m de ancho, 3 de largo y 5 de alto.

Razonad vuestra respuesta.

5





Nombre del equipo:

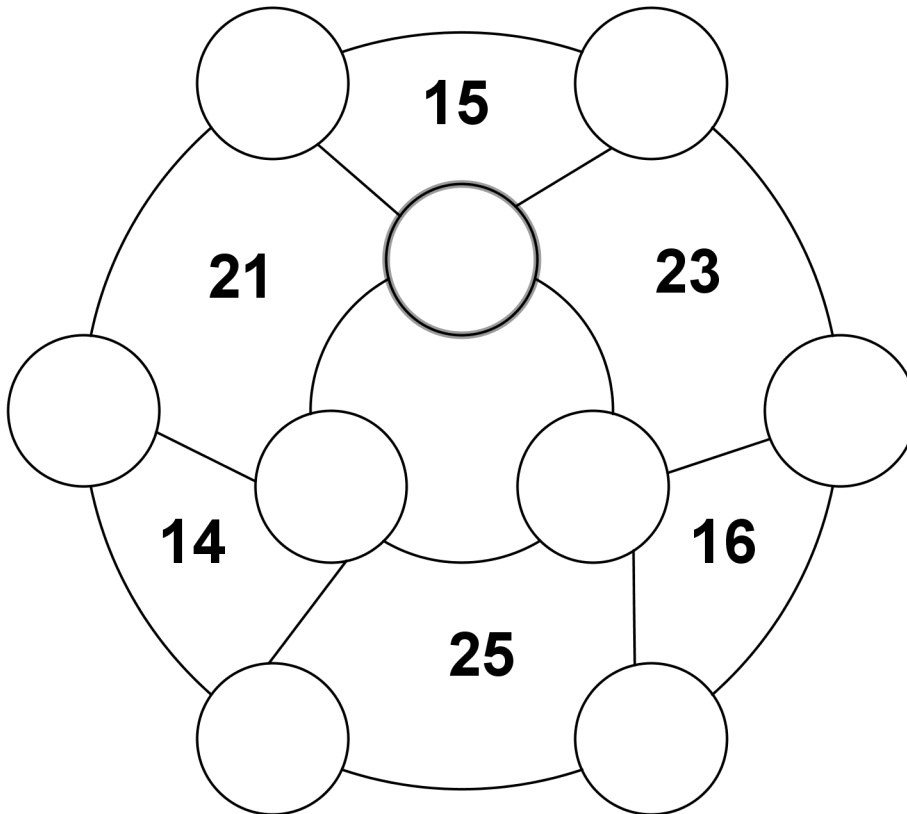
Localidad:

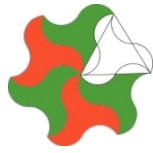
Centro

6

Círculos y más círculos

Coloca los números del 1 al 9 en los círculos, para que la suma de los que rodean cada región sean igual al total que figura en ella.





Nombre del equipo:

Localidad:


Centro

7

Trueque

En el mercado del trueque se cambia:

- Una sandía y un melón por un queso.
- Un queso por cuatro panes.
- Dos melones por seis panes

¿Cuántas sandías te darán por un queso?



Nombre del equipo:

Localidad:

Centro

Cocheando...

Una fábrica de coches realiza modelos de dos motorizaciones (1600 y 2000 cc.) en tres colores cada uno (blanco, azul y rojo) y con tres o cinco puertas cada tipo. Indica el número de diferentes modelos de coches que esa fábrica realiza.

8

