

Velocidad	Comarcal		Nombre del equipo:
		XXV OLIMPIADAS MATEMÁTICAS THALES DE PRIMARIA DE GRANADA 2022	Localidad:
			Centro

1

CRUCINUMÉRICO.

Completad el siguiente crucigrama numérico escribiendo en cada casilla una sola cifra.

	1	2	3	4	5	6
1						
2						
3						
4						
5						
6						

HORIZONTALES

- Noelia tiene 72 cromos. ¿Cuántos debe comprar para tener 135 cromos? / Precede al número 125.
- Tres decenas menos nueve unidades / Resultado de la multiplicar siete por ocho.
- Ocupa el lugar de las decenas en el número 673 / Resultado de la operación: $123 + 98 + 49$.
- Días que hay en 7 semanas / Al repartir seis pegatinas entre tres niñas, ¿Cuántas corresponden a cada una? / Factor que falta $7 \times \underline{\quad} = 35$.
- Cinco docenas, más cuatro huevos./ Repartir 2 docenas de pasteles entre 3 niños. ¿Cuántos corresponden a cada uno?
- Es la mitad de 18. / Compramos un balón por 16 euros. Si pagamos con un billete de 100, ¿Cuánto nos devuelven? / Décenas que hay en 34 unidades

VERTICALES

- Media docena / Falta una para tener 3 veces 25. / Es la mitad de 18.
- Si a 4 niñas de damos 8 euros a cada una, ¿Cuánto dinero hemos dado en total? / Faltan 4 para llegar a 100.
- Una decena más dos unidades.
- Días que hay en 24 horas. / Tres monedas de 20 céntimos, más dos de 5 céntimos y dos de céntimo. / Semanas que hay en un mes.
- ¿Cuántos euros son 5 billetes de 50 euros? / Número que falta en la multiplicación: $\underline{\quad} \times 4 = 32$.
- Al pagar un objeto con un billete de 50 euros, nos devuelven 4 euros. ¿Cuánto cuesta el objeto comprado?



Nombre del equipo:

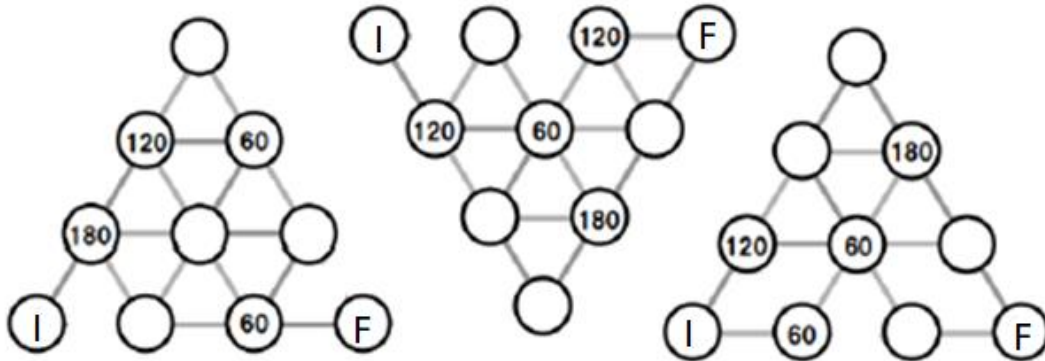
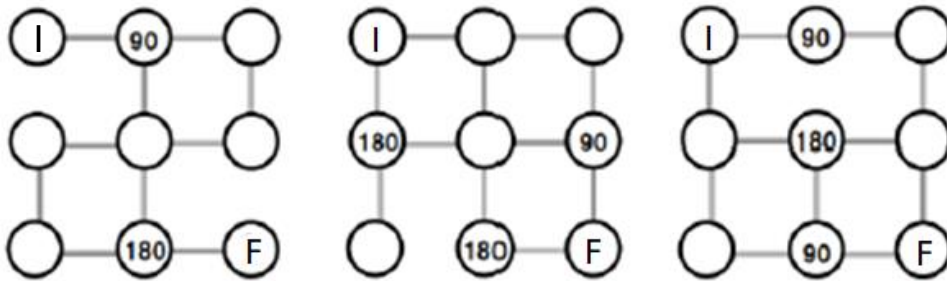
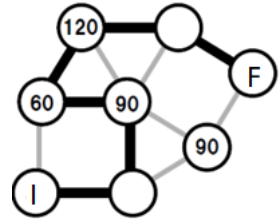
Localidad:

Centro

LABERINTO DE ÁNGULOS.

2 

Dibujad una línea continua desde I(Inicio) hasta F(Final). Podéis pasar a través de cada círculo una vez. Algunos círculos pueden no ser utilizados. Si pasáis por un círculo que contenga un número, la línea debe formar un ángulo que se indique en el círculo, como se muestra en el ejemplo de la izquierda.



Velocidad	Comarcal		Nombre del equipo:
		XXV OLIMPIADAS MATEMÁTICAS THALES DE PRIMARIA DE GRANADA 2022	Localidad:
			Centro

SERIES NUMÉRICAS.

3 

Completad las siguientes series con dos números más en cada una y explicad cómo se han formado:

a) **35 39 43 47 51**

b) **1 4 9 16 25**

c) **3 8 15 24 35**

d) **1 3 4 7 11 18**

e) **87 79 71 63**

f) **13 25 49 97**

g) **4 4 8 24 96**

h) **4 8 10 20 22 44**



Nombre del equipo:

Localidad:

Centro

VENTAS DE LIBROS

La tabla muestra las ventas de libros en una librería a lo largo de una semana:

4

Género	Lunes	Martes	Miércoles	Jueves	Viernes	Sábado
Biografías	14	13	11	15	20	22
Ciencia Ficción	9	7	12	16	21	25
Histórica	10	9	8	11	28	31
Misterio	15	16	18	19	40	42
Romántica	10	8	9	12	15	14
Aventuras	9	8	7	13	22	37

a) Calcula el número total de ventas de cada género en la semana:

Biografías: _____ Ciencia Ficción: _____ Histórica: _____
Misterio: _____ Romántica: _____ Aventuras: _____


b) ¿Cuántos libros se han vendido en total en la semana?

c) ¿Qué día se vendió más libros? ¿Cuántos se vendieron?

d) ¿Qué día se vendió menos libros? ¿Cuántos se vendieron?

e) ¿De qué género se han vendido más libros?

f) ¿Cuál es el género menos popular?





Nombre del equipo:

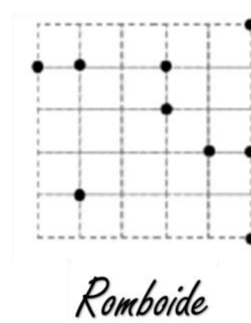


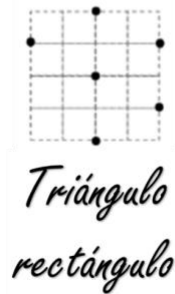

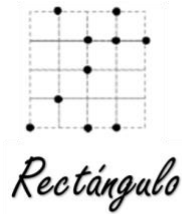
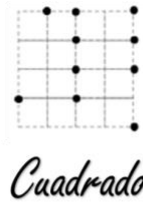
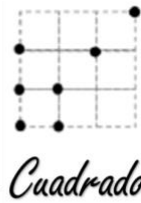
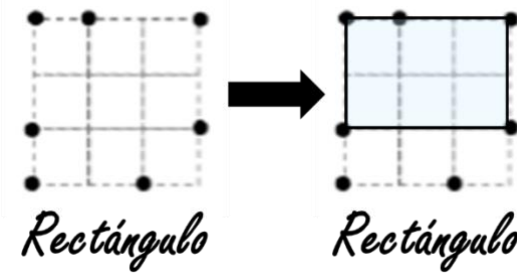
Localidad:

Centro

POLÍGONOS MISTERIOSOS

En las siguientes cuadrículas deberéis dibujar el polígono que se indica con la única condición de que los vértices de dichos polígonos deben ser uno de los circulitos que están dibujados:

5



Velocidad

Comarcal



XXV OLIMPIADAS MATEMÁTICAS THALES
DE PRIMARIA DE GRANADA 2022

Nombre del equipo:

Localidad:

Centro