



**X OLIMPIADA THALES DE  
PRIMARIA DE GRANADA**

NOMBRE DEL EQUIPO:

NOMBRE DEL COLEGIO:

LOCALIDAD:

### **PRUEBA DE VELOCIDAD. FASE COMARCAL.**

#### **1. UNA DE CARRERAS.**

Fernandín Alonsín ganó la carrera organizada en su cole en un tiempo de 20 min. y 34 seg. Su amigote Pedrito del Clavel llegó 2 min y 48 seg mas, y su rival por ser el delegado del curso, Miguelín Chumaquer, tardó 98 seg mas.

Colócalos en orden de llegada, indicando su tiempo.



**X OLIMPIADA THALES DE  
PRIMARIA DE GRANADA**

NOMBRE DEL EQUIPO:


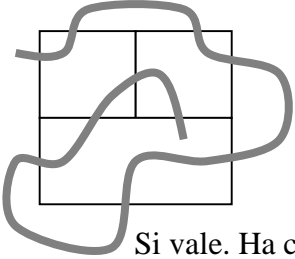
NOMBRE DEL COLEGIO:

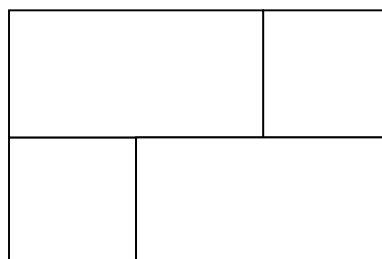

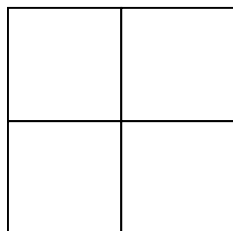



LOCALIDAD:

**PRUEBA DE VELOCIDAD. FASE COMARCAL.**

**2. CRUZANDO**

Hay que trazar una línea continua a través de la red cerrada de la figura, de modo que dicha línea cruce todos los segmentos que componen la red una vez solamente y no se corte a si misma, como se ve en el ejemplo.

 <p>No vale, se cruza para seguir y ha dejado segmentos sin cruzar</p>	 <p>Si vale. Ha cruzado todos los segmentos sin cortarse</p>
--	--





X OLIMPIADA THALES DE  
PRIMARIA DE GRANADA

NOMBRE DEL EQUIPO:

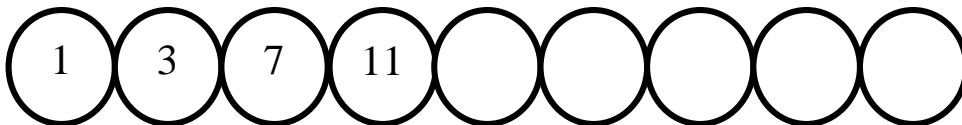
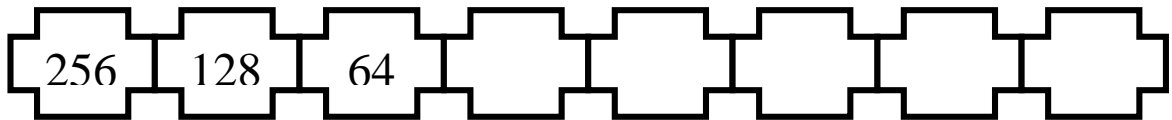

NOMBRE DEL COLEGIO:

LOCALIDAD:

### PRUEBA DE VELOCIDAD. FASE COMARCAL.

#### 3. SERIES

Completa las siguientes series numéricas.







**X OLIMPIADA THALES DE  
PRIMARIA DE GRANADA**

NOMBRE DEL EQUIPO:

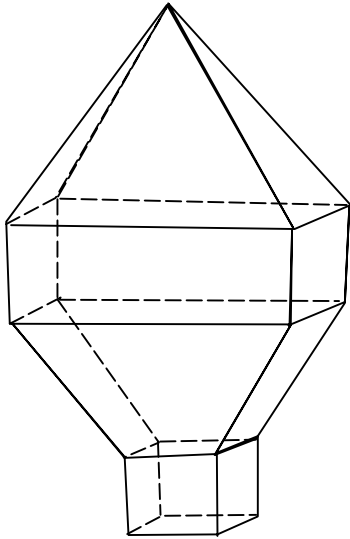
NOMBRE DEL COLEGIO:

LOCALIDAD:

**PRUEBA DE VELOCIDAD. FASE COMARCAL.**

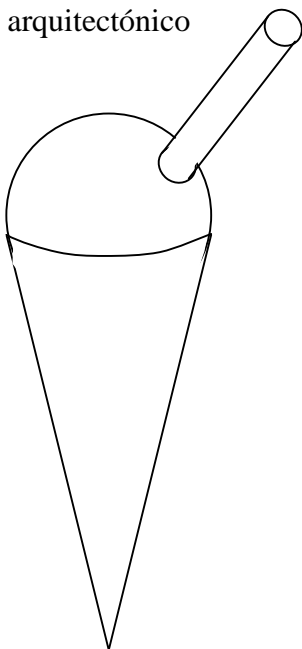
**5. UNA DE FIGURAS.**

Identifica todas las figuras geométricas en los siguientes dibujos, coloreándolos e indicando su nombre.



Adorno  
arquitectónico

Figuras geométricas en el Adorno arquitectónico



Helado

Figuras geométricas en el Helado